



Institución Educativa Rafael García Herreros

"Abriendo caminos hacia la excelencia"

GUIAS DE APRENDIZAJE EN CASA

ÁREA:	Ciencias sociales
GRADO:	Quinto
COMPETENCIAS A DESARROLLAR:	

Continente americano

América es el continente donde vivimos y es el único que llega al Polo Norte y al Polo Sur. Se divide en tres partes:
América del Norte
América Central
América del Sur

América del Sur está unida a América Central mediante el istmo de Panamá y está ubicado entre los océanos Pacífico y Atlántico.

Está conformado por trece países, uno de ellos es el nuestro.

1. Nombra los límites de Colombia

Por el norte: _____

Por el Sur: _____

Por el este: _____

Por el oeste: _____

2. Nombra cuatro departamentos

3. Completa:

- El río más caudaloso y largo de Colombia es _____
- El nevado más alto de Colombia es _____
- Nuestro país se encuentra en la parte _____ de América
- Está dividido en _____ departamentos



Institución Educativa Rafael García Herreros

"Abriendo caminos hacia la excelencia"

GUIAS DE APRENDIZAJE EN CASA

4. Escribe el nombre de los países que conforman América del Sur.

Y _____
Y _____
Y _____
Y _____
Y _____
Y _____
Y _____
Y _____
Y _____
Y _____
Y _____
Y _____
Y _____
Y _____

5. Dibuja el mapa político de Colombia



Institución Educativa Rafael García Herreros

"Abriendo caminos hacia la excelencia"

GUIAS DE APRENDIZAJE EN CASA

ÁREA:	Ciencias sociales
GRADO:	Quinto
COMPETENCIAS A DESARROLLAR:	

1. De manera creativa elaborar un plegable sobre los derechos y deberes, utiliza imágenes, textos, recortes de periódicos, entre otros. Debes socializar esta actividad con tus compañeros y maestra.

Mechitas.

Mechitas una niña hermosa e inteligente corría por las praderas de su barrio, ella era feliz jugando con sus amiguitos hasta que un día apareció un hombre malvado que empezó a perseguirla. Mechas corrió apresuradamente hasta una columna que se hallaba en aquel lugar. Agitada empezó a rogar para que este individuo no la fuera a lastimar. Infortunadamente el hombre alcanzó a percibirla y la agarró del cuello diciéndole -Niña infeliz si gritas te voy a lastimar. La niña solo lloraba sin emitir ningún ruido.

En ese momento un compañerito que pasaba por ese lugar sorprendió al personaje ultrajando a mechitas. Este corrió en busca de la policía que se encontraba por los alrededores. El agente acudió apresuradamente y con un furte sacudón arrebató a la niña del hombre y lo sujetó de las manos dejándolo indefenso.

El policía, en voz alta, le dijo: -Nadie tiene derecho a disponer de la vida de una persona y menos de un niño ni hacerle sentir infeliz en el goce y disfrute de ella. Por eso tendras que repara el daño ocasionado. Mechitas salió ilesa gracias a la pronta actitud de cu amiguito y a la colaboración de la policía.

Responde :

2. ¿Qué derecho constitucional fue protegido por el policía?
3. ¿Cómo se llama el personaje de nuestro cuento y como fue protegido?
4. ¿Deduzca que es el derecho a la vida?
5. ¿En dónde se encuentra consagrado este artículo?
6. ¿Copia y explica con tus palabras los artículos 5 y 42 sobre la familia?
7. ¿A qué se llama Habeas Corpus?Escribe un ejemplo.



Institución Educativa Rafael García Herreros

“Abriendo caminos hacia la excelencia”

GUIAS DE APRENDIZAJE EN CASA

8. Elige 10 principios fundamentales de la constitución del artículo 1 al 20 explícalos con tus palabras y pega imágenes que lo representen.
9. Lee el artículo 86 de la constitución y escribe con tus palabras cuál es la función de dicho artículo y la importancia de este para la sociedad colombiana. Videos de apoyo:
<https://www.youtube.com/watch?v=3yzo2MV4DXA>
<https://www.youtube.com/watch?v=3yzo2MV4DXA>
<https://www.youtube.com/watch?v=0c1IMie8Aj0>
10. ¿Explica con tus palabras para qué te sirve conocer los derechos en todas sus formas?
11. ¿Consulta por qué se promulgaron los derechos humanos?



Institución Educativa Rafael García Herreros


"Abriendo caminos hacia la excelencia"


GUIAS DE APRENDIZAJE EN CASA


ÁREA:	Ciencias sociales
GRADO:	Quinto
COMPETENCIAS A DESARROLLAR:	

1. Colorea según corresponda

• Colorea:

 Los departamentos con mayor presencia de las comunidades indígenas.

 Los departamentos con mayor presencia de comunidades afrocolombianas.

 Los departamentos con mayor presencia de blancos y mestizos.





2. Une con cada globo la región que corresponda



3. Investiga sobre las principales festividades nacionales y realiza un dibujo de cada una

4.

Complete las siguientes frases con información de cada una de las regiones naturales y culturales de Colombia.

✚ Las regiones naturales de Colombia son: _____, _____, _____, _____ y _____.

✚ La región Caribe está ubicada al _____, su clima es _____. algunos de los departamentos que pertenecen a esta región son: _____

✚ La región Pacífica está ubicada al _____, su clima es _____. algunos de los departamentos que pertenecen a esta región son: _____

✚ La región Andina está ubicada al _____, su clima es _____. algunos de los departamentos que pertenecen a esta región son: _____

✚ La región Amazónica está ubicada al _____, su clima es _____. algunos de los departamentos que pertenecen a esta región son: _____



ÁREA:	Ciencias sociales
GRADO:	Quinto
COMPETENCIAS A DESARROLLAR:	

1. Marca X en la razón correcta para cada afirmación.

- Los grupos étnicos poseen vínculos comunes de:
 - cultura, raza y tradición
 - color de piel y procedencia geográfica
- Se dice que muchos indígenas han ido perdiendo la identidad porque:
 - Han sido sometidos a trabajos forzados en las minas.
 - Han dejado sus tierras y se han establecido en las grandes ciudades.
- A la población negra se le dice afrocolombiana, porque:
 - Son negros que se mezclaron con los blancos e indígenas.
 - Son negros nacidos en Colombia.



2. Completa las siguientes fichas.

Blancos y mestizos



Se ubican en _____
Los primeros provienen de _____
Los segundos se originaron de _____
Corresponden al ____% de la población colombiana.

Afrocolombianos



Se ubican en _____
Provienen de _____
Corresponden al ____% de la población colombiana.

Indígenas



Se ubican en _____
Provienen de _____
Corresponden al ____% de la población colombiana.



Institución Educativa Rafael García Herreros

“Abriendo caminos hacia la excelencia”

GUIAS DE APRENDIZAJE EN CASA

3. Escribe el nombre de cada comunidad indígena en la región que corresponda

Guambianos

Zenúes

Cholos

Nukak-makú

U'wa

Macaguajes

Embera

Amazonia

Ticunas

Kogui,
Arhuacos

Gualibos

Pijaos

Wayuu

Piapocos

Kankuamos





4. Completa los cuadros con elementos del patrimonio inmaterial de tu region y de otra region que te llame la atencion

Mi región _____	Otra región _____
• Platos típicos _____ _____	• Platos típicos _____ _____
• Fiestas y música _____ _____	• Fiestas y música _____ _____
• Artesanías _____ _____	• Artesanías _____ _____

5. Completa los enunciados utilizando las palabras del recuadro

- Colombia es un país _____, pues la mayoría de la población es el resultado de una mezcla de tres razas.
- Los grupos raciales que dieron lugar al _____ fueron las comunidades _____, los _____ y los negros.
- La raza negra es originaria de _____. A los negros nacidos en Colombia se les denomina _____.
- La mayoría de la población colombiana es _____ y se encuentra principalmente en la región _____.
- Los territorios habitados por afrocolombianos se encuentran principalmente en la región _____.
- La principal minoría étnica del país corresponde a la población _____.

pluriétnico
indígenas
mestizaje
blancos
Andina
África
afrocolombianos
mestiza
del Pacífico
indígena



6. Resuelve el crucigrama

1. Así se llama a los habitantes de la región Caribe.

2. Esta es la festividad más importante de Quibdó.

3. Música isleña.

4. Vivienda hecha con hojas de palma.

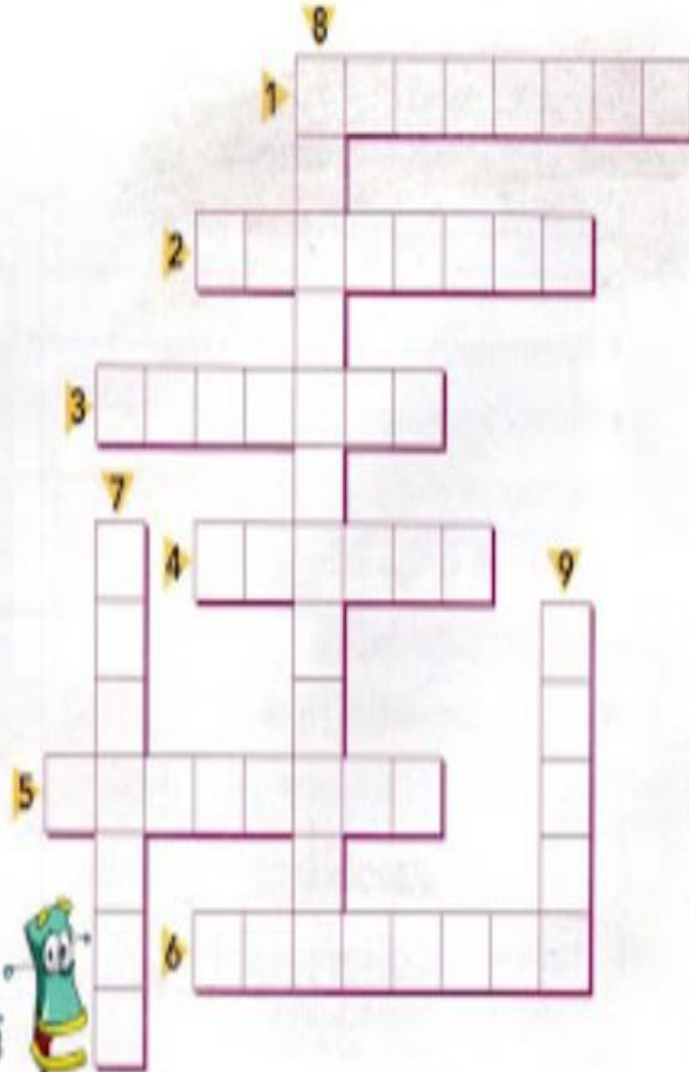
5. Arte de la región del Amazonas.

6. Así se prepara el arroz en la región del Pacífico.

7. Sus artesanías son las más famosas de Boyacá.

8. El canto más importante de la Orinoquia.

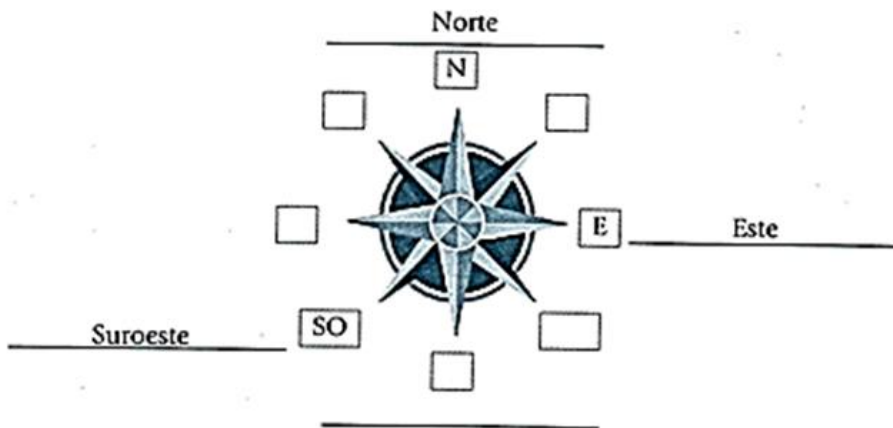
9. Uno de los ritmos más representativos de la región Caribe.



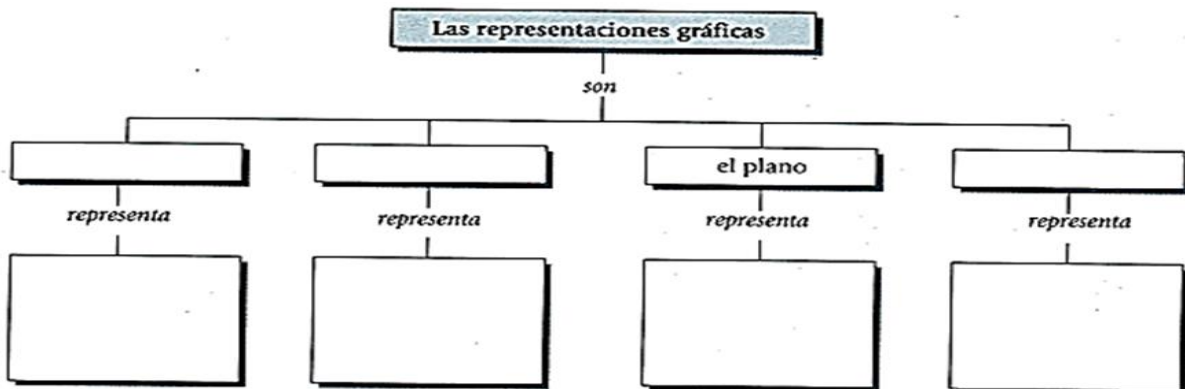


ÁREA:	Ciencias sociales
GRADO:	Quinto
COMPETENCIAS A DESARROLLAR:	

1. Observa la rosa de los vientos. Luego, escribe los símbolos y nombres de los puntos cardinales que hacen falta.



2. Completa el siguiente esquema.



3. Relaciona cada producto con el piso térmico al que corresponde.





Institución Educativa Rafael García Herreros

"Abriendo caminos hacia la excelencia"

GUIAS DE APRENDIZAJE EN CASA

4. Completa la siguiente ficha del lugar donde vives.

Nombre del lugar: _____

Piso térmico: _____

Temperatura media: _____


Vegetación: _____

Fauna: _____


Productos agrícolas: _____




5. Dibuja las señales de tránsito que se indican.



Pare



Zona escolar

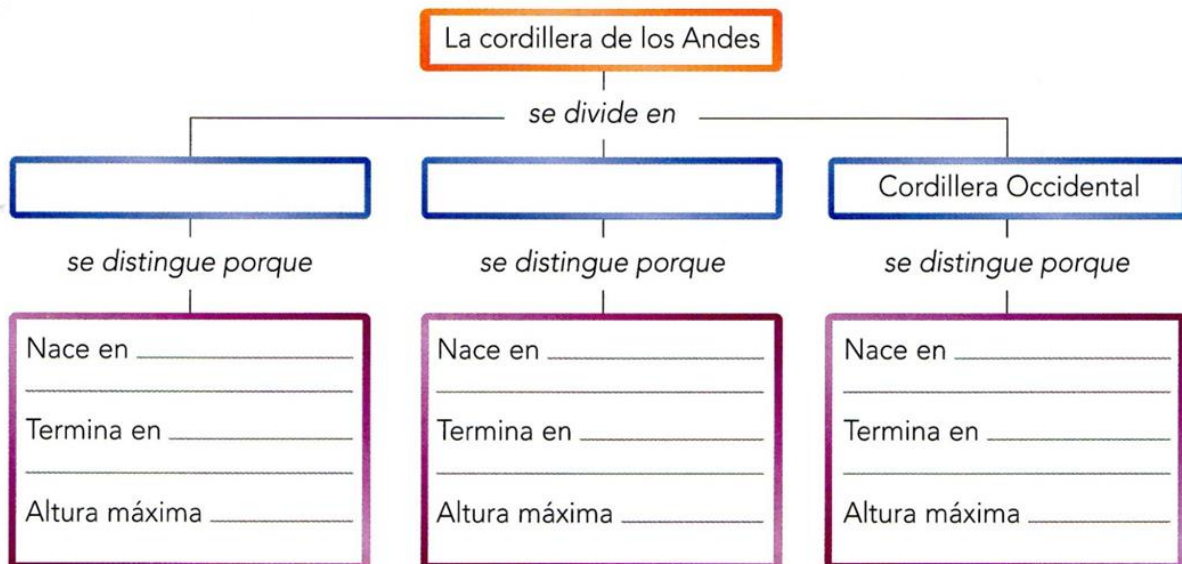


Prohibido girar a la derecha

6. Escribe tres semejanzas y tres diferencias entre un paisaje rural y un paisaje urbano.

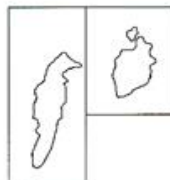
Semejanzas	Diferencias
1	
2	
3	

Completa el esquema, teniendo en cuenta los componentes del relieve colombiano.

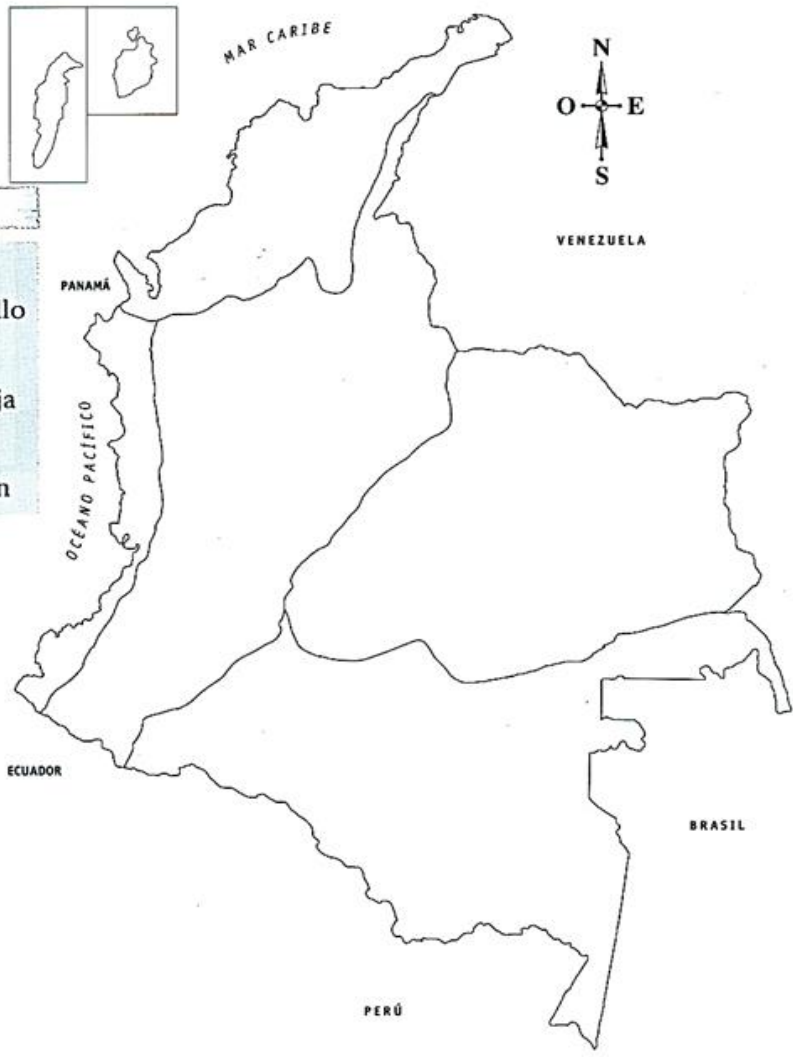




7. Colorea en el mapa las regiones naturales de Colombia de acuerdo con la clave.



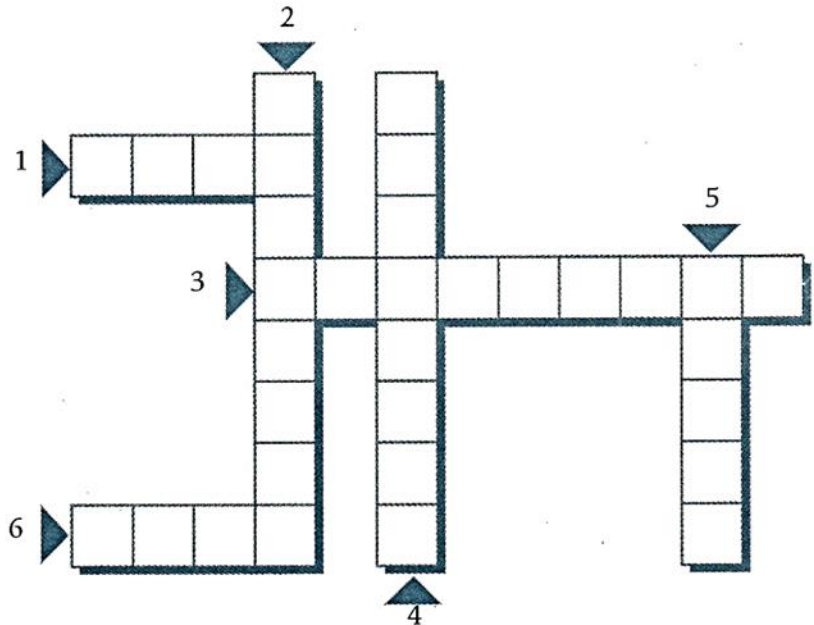
CLAVE	
Región Andina	Verde
Región Caribe	Amarillo
Región Pacífica	Rojo
Región de la Orinoquia	Naranja
Región de la Amazonia	Lila
Región Insular	Marrón





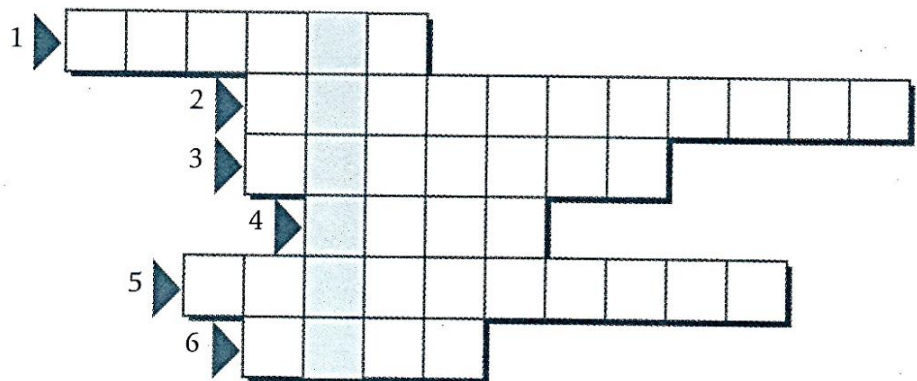
8. Resuelve el crucigrama.

1. En este departamento se celebra el Festival Internacional del Joropo.
2. La explotación petrolera de Cusiana y de Cupiagua quedan en este departamento.
3. Barranquilla es la capital de este departamento.
4. Capital del departamento de Antioquia.
5. Departamento productor de oro.
6. Principal producto agrícola de Colombia.



9. Completa el palabragrama.

1. Nombre del estrecho por donde se cree entraron los primeros habitantes de Colombia.
2. Acción de poblar.
3. A este continente llegaron grupos de asiáticos hace millones de años.
4. Lugar de donde se cree que proceden los primeros habitantes de América.
5. Grupo de personas que vive en un mismo lugar.
6. Principal cultivo de los muiscas.





Institución Educativa Rafael García Herreros

"Abriendo caminos hacia la excelencia"

GUIAS DE APRENDIZAJE EN CASA

10. Observa la imagen y, luego, selecciona la respuesta correcta.

La escena corresponde a:

- La etapa nómada
- La etapa sedentaria
- El cacicazgo

• Explica tu respuesta.